

***Демонстрационный вариант  
контрольно-измерительных материалов  
итоговой промежуточной аттестации  
по географии . 8 класс.***

**1. Выберите моря, которыми территория России омывается на севере:**

- 1) Балтийское, Азовское, Берингово; 2) Белое, Баренцево, Карское;  
3) Охотское, Японское, Чёрное; 4) Каспийское, Балтийское, Чукотское.

**2. В каком климатическом поясе расположена большая часть территории России?**

- 1) в арктическом; 2) субарктическом; 3) умеренном; 4) субтропическом.

**3. Крайняя южная точка России расположена на территории**

- 1) Республики Дагестан 2) Республики Алтай 3) Краснодарского края 4) Приморского края

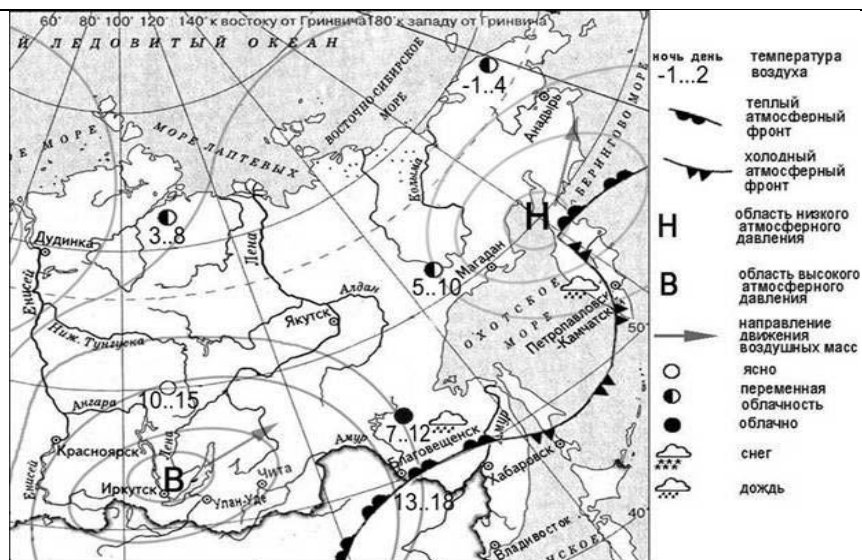
**4. Какие из перечисленных островов входят в состав территории Российской Федерации?**

- 1) Алеутские острова 3) архипелаг Шпицберген  
2) Балеарские острова 4) архипелаг Земля Франца-Иосифа

**5. Укажите горы, для которых характерно наибольшее количество высотных поясов:**

- 1) Бырранга; 2) Кавказские; 3) Алтайские; 4) Уральские.

**Задания 6, 7 выполняются с использованием приведённой ниже карты погоды.**



**6. Какой из перечисленных городов, показанных на карте, находится в зоне действия циклона?**

- 1) Магадан; 2) Красноярск; 3) Иркутск; 4) Хабаровск.

**7. Карта погоды составлена на 20 августа. В каком из показанных на карте городов на следующий день вероятно существенное потепление?**

- 1) Благовещенск; 2) Петропавловск-Камчатский; 3) Иркутск; 4) Улан-Удэ.

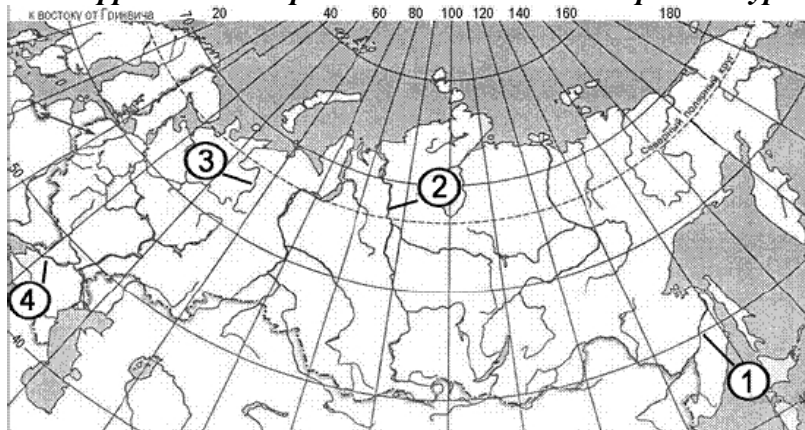
**8. Как называется смещение масс горных пород вниз по склону под действием силы тяжести. Образуются они при неглубоком залегании водоупорных пород или при чередовании водоносных и водоупорных слоёв. Переувлажнённые верхние пласты соскальзывают по водоупору, увлекая за собой всё, что находится на поверхности.**

**ОТВЕТ:** \_\_\_\_\_

**9. В основании территории какого из перечисленных регионов лежит древняя платформа?**

- 1) Воронежская область 2) Республика Дагестан 3) Челябинская область 4) Магаданская область

10. Какой цифрой на фрагменте карты России обозначена река Амур?



11. Какие из перечисленных островов входят в состав территории Российской Федерации?

- 1) архипелаг Шпицберген 3) архипелаг Северная Земля  
2) Алеутские острова 4) Марианские острова

12. Такие неблагоприятные климатические явления, как засухи, суховеи и пыльные бури, значительно затрудняют хозяйственное использование территории. Для какой из перечисленных территорий они наиболее характерны?

- 1) Республика Калмыкия 2) Пермский край 3) Хабаровский край 4) Республика Карелия

13. Какое из перечисленных морей, омывающих побережье России, является самым большим и глубоким?

- 1) Балтийское 2) Белое 3) Берингово 4) Чёрное

14. Почему Дальний Восток называют «краем контрастов»?

15. Установите соответствие.

- |  |                    |
|--|--------------------|
| 1. Кратковременный подъем уровня воды в реке.                | А) Фация.          |
| 2. Совокупность мероприятий, направленных на улучшение почв. | Б) Гидролакколиты. |
| 3. Элементарная и неделимая географическая единица.          | В) Мелиорация.     |
| 4. Куполовидные холмы с ледяным ядром.                       | Г) Паводок.        |

1	2	3	4

16. Для какой из перечисленных территорий России, расположенных в умеренном климатическом поясе, характерен резко континентальный климат?

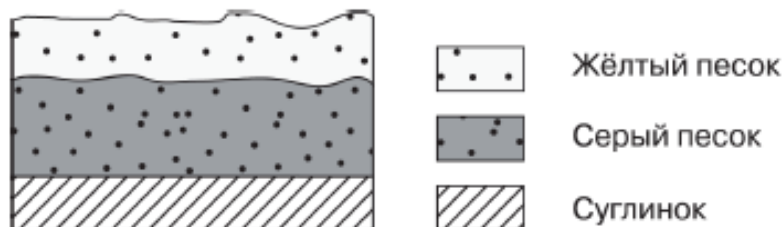
- 1) Забайкалье 2) Кольский полуостров 3) Приморье 4) полуостров Камчатка

**17. Территория какого из перечисленных субъектов Российской Федерации находится в пределах низменной равнины?**

- 1) Тюменская область 2) Адыгея 3) Челябинская область 4) Тыва

**18. Запишите в таблицу получившуюся последовательность букв.**

Во время экскурсии учащиеся сделали схематическую зарисовку залегания горных пород на обрыве у берега реки. Расположите показанные на рисунке слои горных пород в порядке возрастания их возраста (от самого молодого до самого старого).



- А) суглинок; Б) желтый песок; В) серый песок.

1	2	3

**19. Ответ запишите цифрами.**

Самолёт вылетел из Новосибирска (V часовая зона) во Владивосток (IX часовая зона) в 11 часов по времени Новосибирска. Расчётное время полёта составляет 6 часов. Сколько времени будет во Владивостоке, когда самолёт приземлится? Ответ запишите в виде числа.

**20. Дайте объяснение и укажите не менее двух причин.**

В каких районах России сосредоточены ледники? Почему?

**21. Определите природную зону по её краткому описанию.**

Эта природная зона занимает огромные площади на равнинах Северного полушария, в зоне распространения многолетней мерзлоты. В составе древесного яруса преобладают хвойные породы, в наземном – мхи и травы. Недостаток тепла и избыток влаги – причина малого накопления гумуса в почве. Обширные пространства заболочены.

**22. Что является примером НЕРАЦИОНАЛЬНОГО природопользования?**

- 1) проведение снегозадержания в зимнее время
- 2) использование природного газа вместо угля на ТЭС
- 3) создание системы оборотного водоснабжения на промышленных предприятиях
- 4) осушение болот в верховьях малых рек

**23. Почему на северо-западе Псковской области много болот и заболоченных земель? Укажите одну причину, связанную с климатическими особенностями, и одну причину, связанную с особенностями рельефа указанной территории.**

Псковско-Чудская приозёрная низменность расположена на северо-западе Псковской области и охраняется как водно-болотная территория (угодье) международного значения. На ней много обширных низинных, переходных и верховых болот и многочисленных мелких озёр. Они представляют собой огромный источник пресной воды, регулируют водный



**Ответы к заданиям с выбором ответа или кратким ответом**

<b>№ задания</b>	<b>Ответ</b>	<b>№ задания</b>	<b>Ответ</b>
<b>1</b>	2	<b>16</b>	1
<b>2</b>	3	<b>17</b>	1
<b>3</b>	1	<b>18</b>	БВА
<b>4</b>	4	<b>19</b>	21.00
<b>5</b>	2	<b>21</b>	Тайга
<b>6</b>	1	<b>22</b>	4
<b>7</b>	1	<b>24</b>	2
<b>8</b>	оползень	<b>25</b>	Краснодар
<b>9</b>	1	<b>26</b>	ВБА
<b>10</b>	1	<b>27</b>	3
<b>11</b>	3	<b>28</b>	3
<b>12</b>	1	<b>29</b>	1
<b>13</b>	3	<b>30</b>	ВБА
<b>15</b>	ГВАБ		

**Ответы к заданиям с развёрнутым ответом**

<b>№ задания</b>	<b>Ответ</b>	<b>Баллы</b>
<b>14</b>	Северные районы Дальнего Востока лежат за Полярным кругом, а южные – на широте Средиземноморья.	<b>1</b>
<b>20</b>	Горные ледники распространены на Кавказе, Северном Урале, на Алтае, в Восточной Сибири, Саянах, в Забайкалье и на Камчатке. В высокогорьях есть так называемая снеговая граница, выше которой снег, выпадающий за холодное время года, не успевает стаять и долеживает до следующей зимы, а потом превращается в лед.	<b>2</b>
<b>23</b>	1. Псковская область расположена в зоне избыточного увлажнения. Осадков выпадает более 700 мм, испаряемость около 600 мм. Коэффициент увлажнения больше единицы, что приводит к накоплению излишков влаги. 2. В рельефе Псковско-Чудская приозёрная низменность представлена низменной равниной с малыми перепадами высот, а, значит, мал	<b>2</b>

	общий уклон рек, что не способствует выводу излишков воды за пределы области.	
--	---	--